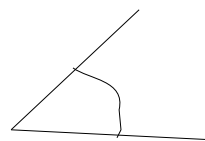
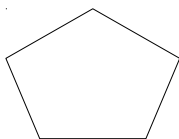


ФОРМИ ВО РАМНИНАТА

1. Именувај ги геометриските фигури на цртежот.



46/

2. Во хоризонтална рамнина лежат само хоризонтални прави. Какви прави лежат во коса рамнина?

26/

3. Нацртај искршена линија со 4 темиња:

а) отворена;

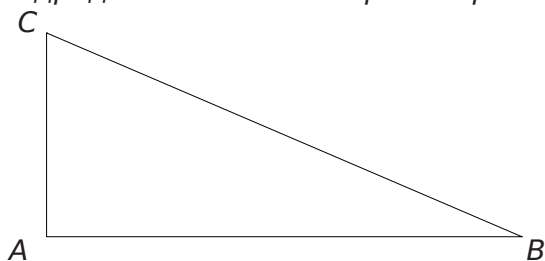
б) затворена.

26/

4. Нацртај центар на кружница, кружница со радиус 2,5 см, радиус на кружницата и дијаметар на кружницата и означи ги со соодветните букви!

36/

5. Со мерење на должините на страните на триаголникот ABC (во милиметри) одреди го неговиот периметар!



36/

6. Нива во форма на квадрат треба да се загради со 4 реда жица. Должината на една страна на нивата е 30 м . Колку метри жица е потребно за да се загради нивата?

26/

7. Периметарот на разностран триаголник е 35 см, должината на АВ е 12 см должината на ВС е 7 см . Пресметај ја должината на третата страна СА!

26/

8. Колку пати периметарот на рамностраниот триаголник е поголем од неговата страна?

16/

9. Наведи пример на:

а) рабесто геометриско тело:

б) валчесто геометриско тело:

26/

10. Што е теме на геометриско тело?

36/

11. Колку сидови и колку раба има цилиндарот?

26/

Име и презиме: _____



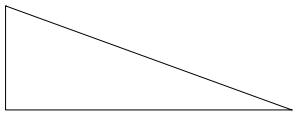
13.02.2012 год.

- именува геометриски фигури (1)
- одредува однос на права и рамнина(2)
- црта геометриски фигури (3,4)
- одредува периметар (5,6)
- одредува страна на геометриска фигура (7,8)
- ги искажува суштествените својства на гео.тела. (9,10,11)

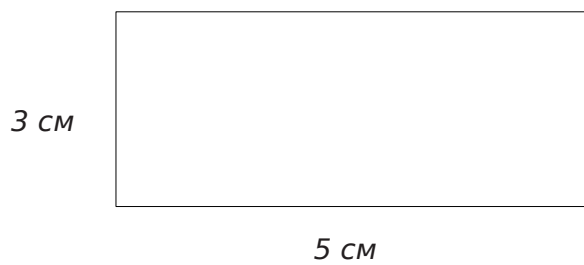
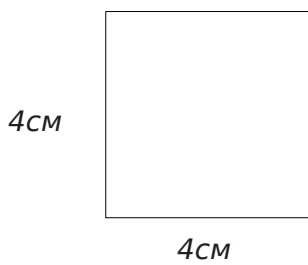
- 0 - 8 => недоволен (1)
- 9 - 13 => доволен (2)
- 14 - 18 => добар (3)
- 19 - 23 => многу добар (4)
- 24 - 26 => одличен (5)

ФОРМИ ВО РАМНИНА (ПП)


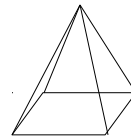
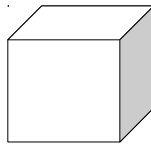
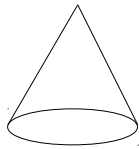
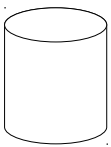
1. Именувај ги геометриските фигури на цртежот.



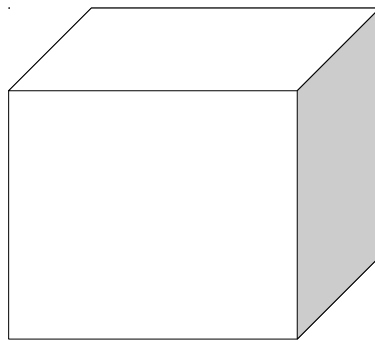
2. Пресметај го периметарот на многуаголниците!



3. Именувај ги геометриските тела!



4. Обележи ги темињата со црна точка! Исцртај ги рабовите со црвена боја! Обој ги ѕидовите со зелена боја!



5. Нацртај кружница со помош на шестар!

6. Нацртај правоаголник!

ИМЕ И ПРЕЗИМЕ: _____

13.02.2013 год.

- именува геометиски фигури и геометриски тела (1,3)
- пресметува периметар на многуаголник (2)
- разликува и обележува сид, раб и теме (4)
- црта геометриски фигури (5,6)