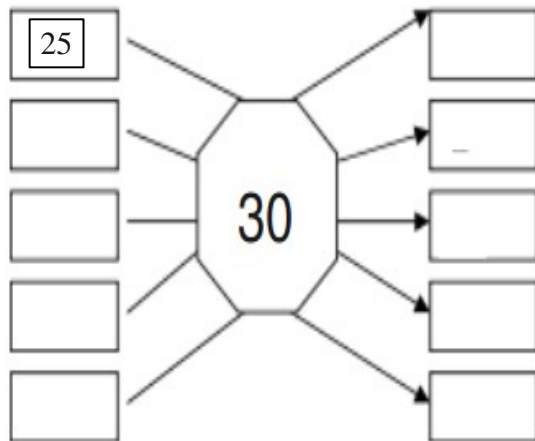
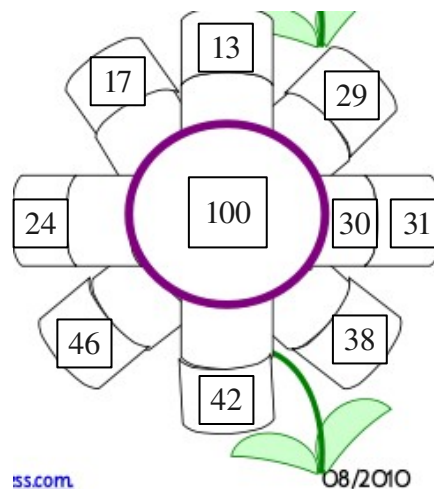
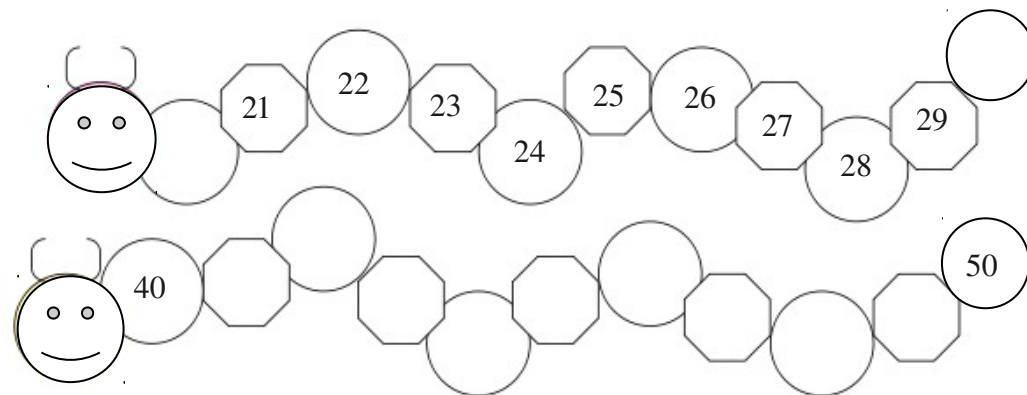


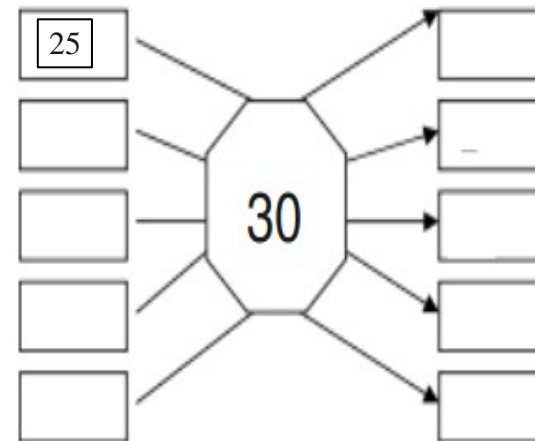
3. Запиши ги сите броеви што може да се заокружат на бројот 30



- определува броеви меѓу две десетки
- заокружува броеви
- решава проблемски задачи



3. Запиши ги сите броеви што може да се заокружат на бројот 30



- определува броеви меѓу две десетки
- заокружува броеви
- решава проблемски задачи

2. Запиши ја најблиската десетка како што е покажано.

2. Запиши ја најблиската десетка како што е покажано.