
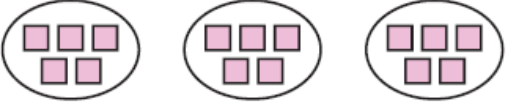



Закужи го множењето што одговар на цртежот!

1)  a)  $4 \times 4$     b)  $1 \times 4$     c)  $4 \times 3$     d)  $2 \times 4$

2)  a)  $2 \times 5$     b)  $3 \times 3$     c)  $5 \times 5$     d)  $3 \times 5$

3)  a)  $1 \times 3$     b)  $3 \times 3$     c)  $2 \times 3$     d)  $4 \times 3$

4) 

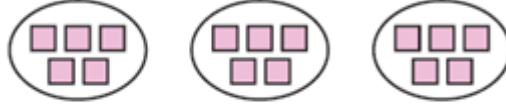
2. Множењето претстави го со цртеж!


1)  $2 \times 4 = \underline{\quad}$

2)  $3 \times 2 = \underline{\quad}$

Закужи го множењето што одговар на цртежот!

1)  a)  $4 \times 4$     b)  $1 \times 4$     c)  $4 \times 3$     d)  $2 \times 4$

2)  a)  $2 \times 5$     b)  $3 \times 3$     c)  $5 \times 5$     d)  $3 \times 5$

3)  a)  $1 \times 3$     b)  $3 \times 3$     c)  $2 \times 3$     d)  $4 \times 3$

4) 

2. Множењето претстави го со цртеж!

1)  $2 \times 4 = \underline{\quad}$

2)  $3 \times 2 = \underline{\quad}$