

1. Мерки за зафатнина се _____

2. 1L = _____ ml

3. Стави го потребниот знак > = <

5 L ○ 4 L

3000 ml ○ 3 L

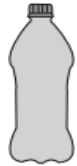
1 L ○ 800 ml

200 ml ○ 500 ml

6 L ○ 4000 ml

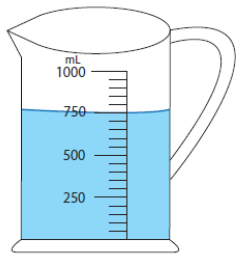
1500 ml ○ 2 l

4. Процени!



- 50 mL
- 500 mL
- 5 L

5. a)



_____ mL

1. Мајката купила 1L млеко. Децата за појадок испиле 500 ml млеко. Колку млеко останало?

Решение:

Одговор: _____

- знае мерки за волумен
- мери волумен

- проценува волумен
- решава текстуални задачи со волумен

1. Мерки за зафатнина се _____

2. 1L = _____ ml

3. Стави го потребниот знак > = <

5 L ○ 4 L

3000 ml ○ 3 L

1 L ○ 800 ml

200 ml ○ 500 ml

6 L ○ 4000 ml

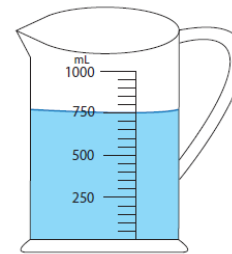
1500 ml ○ 2 l

4. Процени!



- 50 mL
- 500 mL
- 5 L

5. a)



_____ mL

1. Мајката купила 1L млеко. Децата за појадок испиле 500 ml млеко. Колку млеко останало?

Решение:

Одговор: _____

- знае мерки за волумен
- мери волумен

- проценува волумен
- решава текстуални задачи со волумен